

2022年度

青森明の星高等学校入学者選抜学力検査

社 会

注 意

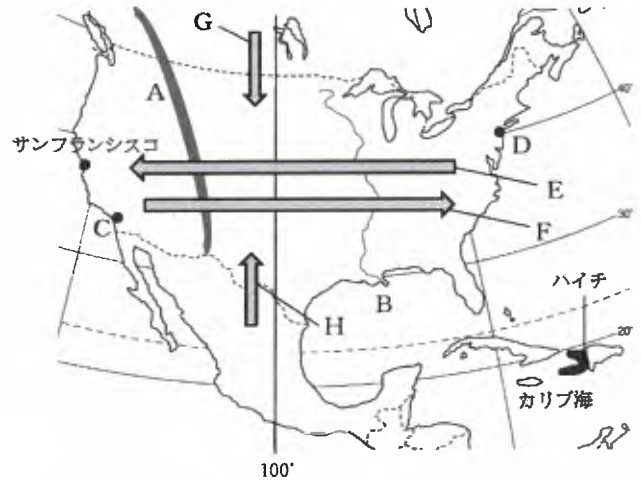
- 1 問題冊子は監督者の「始め」の合図があるまでは開いてはいけません。
- 2 問題冊子は表紙を入れて8ページあり、これとは別に解答用紙が一枚あります。
- 3 解答用紙の決められた欄に、受検番号を記入しなさい。
- 4 答えはすべて解答用紙に記入しなさい。
- 5 机の上には、受検票、えんぴつ、消しゴム、えんぴつ削り以外の物を置いてはいけません。
- 6 印刷が悪くて分からないときや、筆記用具を落としたときには、黙って手を挙げなさい。
- 7 監督者の「やめ」という合図ですぐにやめなさい。

1

下の略地図や資料を見て、次の(1)～(7)に答えなさい。(15点)

- (1) 略地図中の山脈Aと河川Bの名称として適切な組み合わせを、次の表の1～4から一つ選び、その番号を書きなさい。

	A	B
1	アパラチア山脈	ミシシッピ川
2	アパラチア山脈	コロラド川
3	ロッキー山脈	ミシシッピ川
4	ロッキー山脈	コロラド川



- (2) 次の文中の㊸ _____ の略称をアルファベット3字で書きなさい。また、(㊹) にあてはまる語句を書きなさい。

2021年8月、ハイチの西部でマグニチュード7.2の大地震が発生した。ハイチでは2010年1月にも大地震が発生しており、被災者の支援のため、多数の㊸ 非政府組織 団体が活動した。また、毎年8月から9月にかけては、カリブ海を中心に熱帯低気圧である (㊹) が発生し、西インド諸島やメキシコ湾岸から大西洋沿岸に大きな被害をもたらす。

- (3) アメリカの農業について、次の文の① _____ ～④ _____ のうち、適切でないものを一つ選び、その番号を書き、正しい語句に書き直しなさい。

アメリカ合衆国では、① 適地適作 と呼ばれる環境に合わせた農業がみられます。例えば、西経100度よりも② 東 の乾燥地域では放牧がさかんです。中西部では、とうもろこしや大豆の栽培がさかんであり、どちらも世界の生産量の30%以上を占めています。また、③ 北緯30度 以南のフロリダ半島は、温暖な気候をいかした園芸や果樹の農業地帯が広がっています。穀物の運搬・加工は主に④ 大企業 が行い、世界各地で事業を行っています。

- (4) 略地図中のC・Dはいずれもアメリカを代表する都市である。それらの特徴として適切なものを、次の1～5からそれぞれ一つ選び、その番号を書きなさい。

- 1 西インド諸島に近いことから、カリブ海の文化の影響を強くうけている。
- 2 都市の北西にはハリウッドが隣接し、映画産業や先端技術産業がさかんである。
- 3 金融の中心地であるウォール街があり、国際連合の本部が置かれている。
- 4 かつては製鉄業の中心地であったが、現在は情報技術産業の発展もみられる。
- 5 メキシコ湾岸油田を利用した石油化学工業がさかんである。

- (5) 略地図中のE～Hの矢印を説明した文として適切なものを次の1～4から一つ選び、その番号を書きなさい。

- 1 E：政府主導で行われた強制移住政策によるイヌイットの大移動
- 2 F：西アジアの商人がイスラム教を布教したルート
- 3 G：アフリカ系の人々が奴隷として連れてこられた様子
- 4 H：スペイン語を話す移民が高い賃金を求めて流入する動き

- (6) サンフランシスコの郊外に位置し、ICT関連企業が集中する地域を何とよぶか書きなさい。また、この地域では、近年、インドとの業務提携がさかんに行われているが、その理由を説明しなさい。
- (7) アメリカ合衆国の文化や社会について説明している文として適切なものを、次の1～4から一つ選び、その番号を書きなさい。
- 1 食料品・日用雑貨などを安く、大量に販売する形式のスーパーマーケットが誕生した。
 - 2 かつてはイギリスの植民地であったため、国旗にユニオンジャックがデザインされている。
 - 3 「世界の工場」としての地位を築き、現在は国内総生産が世界第2位の大国となった。
 - 4 国家財源の多くが石油からの収入で、国民から税金を徴収しておらず、医療費も無料である。

2 右の略地図を見て、次の(1)～(6)に答えなさい。(15点)

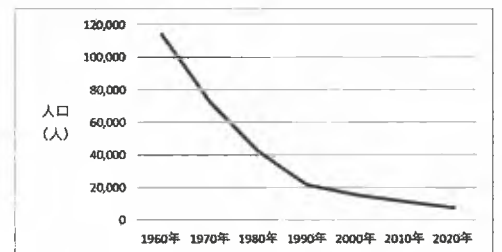
- (1) 略地図中の1～4のうち、政令指定都市を表しているものを一つ選び、その番号を書きなさい。
- (2) 略地図中のA ○ ではエコツーリズムがさかんだが、それはどのようなものか、「両立」という語を使って簡単に書きなさい。
- (3) 略地図中のB ○ は国内有数の畑作地域であり、土地の栄養を落とさないように、同じ土地で年や時期ごとに異なる作物を順番に作るなどの工夫をしている。この方法を何というか、次の1～4から一つ選び、その番号を書きなさい。



- 1 二期作 2 二毛作 3 輪作 4 連作

- (4) 2020年7月、略地図中のCに、歴史や文化等について十分な理解が得られていないといった課題に直面している民族に関する「ウポボイ」が開業した。この民族を何というか、カタカナで書きなさい。

- (5) 右のグラフは、略地図中の都市 あ～え のうちどこのものか、一つ選び、記号を書きなさい。また、このように推移した主な理由は何か、簡単に書きなさい。



- (6) 下の表は、2020年の月別日照時間を表しており、表中のX・Yは、略地図中の都市Dと青森市のいずれかである。次の文章中(a) と(b)には適する語句を、(c)にはXまたはYを選んで書きなさい。ただし、(a)は8方位で答えること。

2020年 月別日照時間 (単位: 時間)

	1月	2月	3月	4月	5月	6月	7月	8月	9月	10月	11月	12月
X	184.6	202.5	201.8	205.0	192.8	123.4	88.0	139.1	109.3	186.7	167.6	214.9
Y	59.3	80.2	158.5	139.0	182.7	210.0	167.3	178.4	172.8	127.6	78.5	44.6

(「気象庁ホームページ」による)

(a) から吹く夏の季節風が、北から流れてくる(b) 海流に冷やされ濃霧が発生するため、略地図中の都市Dのデータは(c) であると考えられる。

3

下の史料を読み、次の(1)～(2)に答えなさい。(17点)

史料Ⅰ

倭人は、帯方郡の東南方の大海中であつて、山がちの島に国をつくっている。以前は、百余の小国に分かれ、漢の時代に㊦朝貢する者があつた。今、魏に使節を送ってくる国は30国である。帯方郡から倭に行くには、半島の海岸ぞいに航行し、・・・・・・対馬国から一支(峇岐)、末盧(まつら)国、伊都国、奴国、不弥国、投馬国をへて、南の【 X 】に到着する。そこが女王の都をおいている国である。・・・・・・帯方郡から女王国までは1万2000余里である。・・・・・・ (現代語訳)

史料Ⅱ

戊午説 538年

欽明天皇の戊午年(538年)、【 Y 】の聖明王がはじめて仏像・経典と僧を送ってきた。天皇は、蘇我稲目にこれらを授けて、仏教をさかんにされた。 (『上宮聖徳法王帝説』現代語訳)

壬申説 552年

欽明天皇の13年(552年)冬10月に、【 Y 】の聖明王が、釈迦仏の金銅像一体、幡と蓋を若干、経論若干巻を献上してきた。そこで、天皇は、群臣ひとりひとりに次のように問われた。「西の国から献上された仏像の荘厳さはこれまで見たこともないものだ。これを礼拝したものかどうか。」この下問に対して蘇我稲目は「西の諸国はみな礼拝しています。わが国だけが、礼拝しないわけにはいきまますまい。」と答えた。物部尾輿・中臣鎌子は「わが朝廷が天下を治める根源は、天地の神々を春夏秋冬に祭祀することにあります。それなのに外国の神を礼拝されるようならば、恐らくわが国の神々の怒りを招くことになるでしょう。」と反対した。そこで、天皇は、「礼拝をしたいと願っている蘇我稲目に授けて、試みに礼拝させてみよう。」といわれた。 (『日本書紀』現代語訳)


(1) 史料Ⅰについて、次のア～エに答えなさい。

ア 【 X 】に最も適する国の名前を漢字で書きなさい。

イ ㊦ _____ について、朝貢とはどのような外交か、簡単に書きなさい。

ウ 史料Ⅰは何という歴史書か、名称を書きなさい。

エ 次の1～4の写真や絵を見て、史料Ⅰに書かれている日本の様子より以前からあるものはAに、以後のものはBにすべて振り分けなさい。



(2) 史料Ⅱについて、次のア～ウに答えなさい。

ア 日本への仏教伝来の時期について、史料Ⅱの通り2つの説がある。どちらの説も【 Y 】の聖明王から日本に仏教が伝えられたと記録しているが、この国として最も適切なものを語群から一つ選び、その国名を書きなさい。

〈語群〉インド 百済 隋 新羅

イ 仏教伝来を受け入れ、日本の仏教文化の土台を築いた豪族の子孫で、推古天皇の時代に活躍した人物を書きなさい。

ウ 史料Ⅱ以降、日本の仏教の展開について適切なものを二つ選び、その番号を書きなさい。

- 1 飛鳥時代、聖徳太子が仏教を厚く用いる方針を示し、冠位十二階にその考えを反映させた。
- 2 奈良時代、天武天皇が仏教の力を借りて国を守る鎮護国家を目指し、各地に国分寺を造らせた。
- 3 平安時代、最澄や空海は都に寺を構えずに山岳仏教を展開した。
- 4 鎌倉時代、念仏を唱えることよりも座禅をすることを重視する臨済宗を栄西が開いた。
- 5 室町時代、寺院の様式を取り入れた寝殿造の銀閣が足利義政によって造られた。

4 右の年表を参考にして、次の(1)～(6)に答えなさい。(13点)

(1) ㉞ _____ によって、近代国家の基盤が整った。このときの様子を表した文として適切なものを、次の1～4の中から一つ選び、その番号を書きなさい。

- 1 欧米文化が多く入ってきたため、それに対抗し日本古来の文化を重視する思想が、福沢諭吉によってひろめられた。
- 2 全ての国民が選挙に参加できる体制が整った。
- 3 藩を廃止し、全国を府県にわけ、中央から役人を派遣し中央集権体制を整えた。
- 4 国家の財政を安定させるため、土地の価格を定め、地価の8%を土地所有者に現金で納めさせた。

年代	できごと
1868	㉞明治維新がはじまる
1889	A が発布される
	↑ ↓ ㉝
1929	㉝アメリカで株価が大暴落する
1945	第二次世界大戦終戦 ㉜民主化政策の実施
1970	大阪万博が開かれる
1990	㉟東西ドイツが統一する

(2) A の制定により当時のアジアでは最初の立憲制国家となった。A にあてはまる語を書きなさい。

(3) ㉚ _____ の期間に起きた出来事について、古いものから順に並べ替えなさい。

- 1 下関条約が結ばれる。
- 2 義和団事件がおこる。
- 3 サラエボ事件がおこる。
- 4 日英同盟が結ばれる。

(4) ㉝ _____ について、1929年の各国の工業生産量を100とし、その後の工業生産量の動きを右の表にまとめた。表の中から一カ国を選び、1930年代の各国の工業生産量のような変化が起こった背景の出来事を明らかにし、どのような取り組みが行われてその出来事に対応したのかを簡単に書きなさい。

	アメリカ	イギリス	ドイツ	ソ連	日本
1928年	93	94	99	79	90
1929年	100	100	100	100	100
1930年	81	92	86	131	95
1931年	68	84	68	161	92
1932年	54	84	53	183	98
1933年	64	88	61	198	113
1934年	66	99	80	238	128
1935年	76	106	94	293	142

(国際連盟「統計年報」による)

(5) ㉠ _____ について適切でないものを、次の1～4から一つ選び、その番号を書きなさい。

- 1 農地改革の結果、自作農が増加し、農村の平等化がすすんだ。
- 2 民主主義の教育の基本を示す教育勅語が制定された。
- 3 言論・出版・結社の自由が保障され、政治活動が認められるようになった。
- 4 選挙法が改正され、選挙権が満20歳以上の男女に与えられた。

(6) ㉞ _____ の前後の日本では、土地や株価の値段が異常に上昇した。このときの景気を何というか、書きなさい。

5 地方公共団体について、資料を見て次の(1)～(7)に答えなさい。(15点)

資料 日本国憲法

第92条

地方公共団体の組織及び運営に関する事項は、地方自治の本旨に基いて、法律でこれを定める。

第93条

① 地方公共団体には、法律の定めるところにより、その議事機関として議会を設置する。

② 地方公共団体の長、その議会の議員及び法律の定めるその他の吏員は、その地方公共団体の住民が、直接これを選挙する。

(1) 資料Iは、日本国憲法第92条と第93条を示している。条文に書かれている「法律」とは、具体的に何という法律か、書きなさい。

(2) 地方公共団体の仕事として適切でないものを、次の1～6から一つ選び、その番号を書きなさい。

- 1 ごみの収集 2 戸籍、住民登録の事務 3 年金の管理
- 4 公立小中学校の設置 5 上下水道の整備 6 パスポートの交付

(3) 1999年の法律制定以降、国の仕事の多くが地方公共団体の仕事となり、仕事や財源を国から地方公共団体に移されている。このことを何というか、書きなさい。

(4) 「長」について、次の文章中(㉔)～(㉘)にあてはまる語句の組み合わせを、次の1～6から一つ選び、その番号を書きなさい。

国の行政の長である(㉔)は、国民が選挙によって選んだ国会議員で構成される国会が(㉙)する。これに対し、地方公共団体の(㉕)は、住民が(㉚)によって選ぶ。

- 1 ㉔ 国務大臣 ㉙ 任命 ㉕ 首長 ㉚ 直接選挙
- 2 ㉔ 国務大臣 ㉙ 指名 ㉕ 議長 ㉚ 間接選挙
- 3 ㉔ 国務大臣 ㉙ 任命 ㉕ 首長 ㉚ 間接選挙
- 4 ㉔ 内閣総理大臣 ㉙ 指名 ㉕ 議長 ㉚ 直接選挙
- 5 ㉔ 内閣総理大臣 ㉙ 任命 ㉕ 首長 ㉚ 間接選挙
- 6 ㉔ 内閣総理大臣 ㉙ 指名 ㉕ 首長 ㉚ 直接選挙

(5) 「二元代表制」とはどのようなものか、簡単に書きなさい。

(6) 住民には、直接民主制の考え方を取り入れた「直接請求権」が認められている。次の文は、「直接請求権」のうち、どのようなことを求める手続きを示しているか、【 】にあてはまる語を書きなさい。

議員の【 】は、有権者総数の3分の1以上の署名を集めて、選挙管理委員会に請求する。

(7) 青森市で条例の制定を要求するためには、最低でも何人以上の署名が必要となるか。右の表を参考にし、数字を書きなさい。

人口(人)	276,339
面積(km ²)	824.61
人口密度(人/km ²)	335.1
世帯数(世帯)	137,018
有権者数(人)	239,735

(「青森市ホームページ」より2021年4月時点による)

6 労働について、次の(1)～(5)に答えなさい。(15点)

(1) 右の表は、労働者と経営者の考え方をまとめたものである。(W)～(Z)にあてはまる文を、下の1～4からそれぞれ一つ選び、その番号を書きなさい。

	労働者の考え	経営者の考え
正規雇用について	利点は(W)	課題は(X)
非正規雇用について	課題は(Y)	利点は(Z)

- 1 仕事に役立つ知識や技能を身につけやすい。
- 2 社員教育に費用がかかる。
- 3 安定した収入を得にくい。
- 4 必要な時期に必要な人材を確保しやすい。

(2) 右の資料は、ある企業の求人広告の一部である。この記載事項のうち、現在の労働基準法に違反している点はどこか、簡単に書きなさい。

〇〇工場(株) 新入社員 募集!!

資格 高校卒業以上

給与 固定給
男子183,000円、女子175,000円

時間 8:20～16:20
休憩時間を除いた実働時間は1日7時間

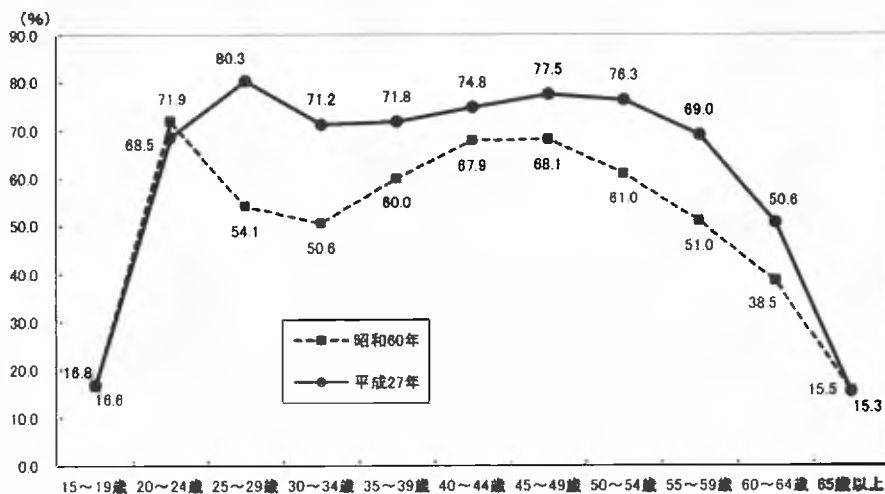
休日 週1日、夏季休暇、年末年始休暇
有給休暇ほか

待遇 社会保険加入制度あり

(3) ワーク・ライフ・バランスにかかわる取り組みとして、次の1～4はそれぞれ、国、地方自治体、企業、国民のどの取り組みに当てはまるか、適切なものをそれぞれ一つ選び、その番号を書きなさい。

- 1 短時間勤務や育児休業など、柔軟な働き方が可能な職場づくりを進める。
- 2 仕事と生活のバランスを考え、周囲と協力しながらその実現をめざす。
- 3 労働にかかわる法律を整備し、それを守るように指導する。
- 4 地域の実情に応じて、育児や介護を行う家族を支えるサービスを提供する。

(4) 右の資料は、女性の年齢階級別労働力率を表している。仕事に就いている女性の割合が、25～34歳で減少しているのはなぜか。簡単に書きなさい。



(総務省「労働力調査」による)

(5) わが国の雇用や労働について述べたものとして適切なものを、次の1～4から一つ選び、その番号を書きなさい。

- 1 従来の成果主義や能力主義にかえて、年功序列による賃金を導入する企業が増えてきている。
- 2 雇用の分野において男女差別をなくすため、男女雇用機会均等法が制定されている。
- 3 2017年現在、日本には50万人以上の外国人労働者が働いており、一般的に賃金が高く、労働条件や契約の継続は、経済の状況に影響されやすくなる。
- 4 労働関係調整法は、労働時間や休日、賃金などの労働条件について定めている。

7

2021年に行われた東京オリンピックではSDGs（持続可能な開発目標）と関連する事例が多く見られた大会であった。下のカードは東京オリンピックでの具体的な事例についてまとめたものである。

これらについて、次の（1）～（4）に答えなさい。（10点）

I. 気候変動への取り組み

- ・大会での選手・関係者の移動には、燃料電池自動車やハイブリッド車などの電動車両を活用した。
- ・競技会場や選手村で使う電力は、風力や太陽光などを利用した環境に配慮した電力を使用した。

II. 資源を大切にす取り組み

- ・再生可能な資源の利用に取り組み、選手村ではダンボール資材を活用したベッドを整備した。
- ・全国から使用済みプラスチック24.5トン回収し、大会で使用する表彰台を制作した。

III. 人権や差別への取り組み

- ・オリンピック憲章の一部緩和によって、選手が競技開始前に人種差別に対する抗議を意味する「片ひざを地面につくポーズ」をとる姿がみられた。

（「2020 東京オリンピック公式ホームページ」による）

（1） カード I では二酸化炭素の削減に向けた取り組みが紹介されている。これについて次の①～②の問いに答えなさい。

- ① 1997年に採択された先進国に二酸化炭素などの削減を義務づけた文書を何と云うか、書きなさい。
- ② このまま二酸化炭素が増加することによって地球で起きるとされる現象として、適切でないものを次の1～4から一つ選び、その番号を書きなさい。

- 1 東アジアや東南アジアで、大雨が続いたり、強い勢力の台風が発生したりする。
- 2 北アメリカでは、熱波や干ばつによって森林火災が発生しやすくなる。
- 3 ヨーロッパでは、酸性雨が降り、伝統的な建造物が破損される。
- 4 太平洋諸島などでは、海面の上昇により水没する恐れがある。

（2） カード II の下線部について、リデュースの取り組みとして適切なものを、次の1～4から一つ選び、その番号を書きなさい。

- 1 お弁当を食べるとき、割り箸ではなくマイ箸を利用している。
- 2 古くなったバスタオルを切り分け、雑巾として使用する。
- 3 使用済みのペットボトルを回収し、再加工してスニーカーを作製する。
- 4 スーパーで購入したビニール袋を持ち歩き、何度も利用する。

（3） カード III の下線部について、19世紀にアメリカで起きた南北戦争で黒人奴隷制を批判し、北軍を率いて勝利した大統領は誰か、書きなさい。

（4） 国際連合で採択されたSDGsは、西暦何年までに達成すべき国際目標と定めているか、書きなさい。