

2025年度

青森明の星高等学校入学者選抜学力検査

社 会 (45分)

12時35分～13時20分

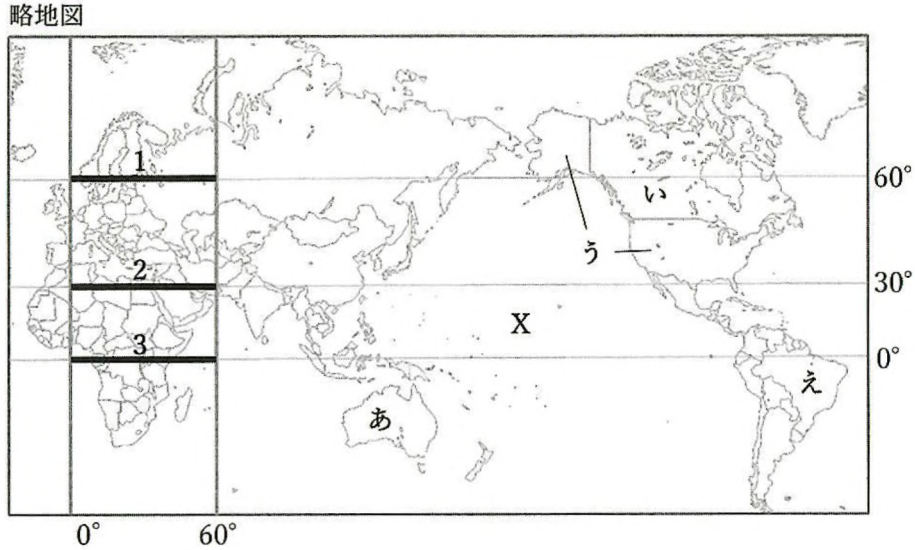
注 意

- 1 問題用紙は「始めなさい」という合図があるまで開いてはいけません。
- 2 問題用紙は表紙を入れて8ページあり、これとは別に解答用紙が1枚あります。
- 3 受検番号は、検査開始後、解答用紙の決められた欄に記入しなさい。
- 4 机の上に置けるものは、受検票・鉛筆（シャープペンシルも可）・消しゴム・鉛筆削りです。
- 5 筆記用具の貸し借りはいけません。
- 6 問題を読むとき、声を出してはいけません。
- 7 印刷がはっきりしなくて読めないときや、筆記用具を落としたときなどは、だまって手をあげなさい。
- 8 「やめなさい」という合図ですぐに書くのをやめ、筆記用具を置きなさい。

答えの書き方

- 1 答えは、問題の指示に従って、すべて解答用紙に記入しなさい。
- 2 答えはていねいに書きなさい。答えを書き直すときは、きれいに消してから書きなさい。

1 下の略地図を見て、次の(1)～(6)に答えなさい。(14点)



- (1) 略地図中のXは三大洋の一つである。この海洋名を漢字で書きなさい。
- (2) 略地図中の1～3のうち、実際の距離が最も短いものを選び、その番号を書きなさい。
- (3) 略地図中の0°の経線について述べた文として**適切でないもの**を、次の1～4の中から一つ選び、その番号を書きなさい。
- 1 イギリスのロンドンを通っている。
 - 2 回帰線と平行になるように引かれている。
 - 3 東経と西経の境界である。
 - 4 真反対の経度を基準として日付変更線が引かれている。

- (4) 資料1は、ある農産物の主な生産国・輸出国とその割合(2020年)を表したものである。この農産物は何か、書きなさい。
- (5) 資料2は、熱帯で暮らす人々の住居である。建物にはどのような工夫がなされているか、書きなさい。


資料1

生産国	割合 (%)	輸出国	割合 (%)
中国	28.2	インド	31.7
インド	23.6	ベトナム	12.5
バングラデシュ	7.3	タイ	12.4
インドネシア	7.2	パキスタン	8.7
ベトナム	5.7	アメリカ合衆国	6.1
その他	28.0	その他	28.6

(「FAOSTAT」による)

- (6) 次のa～dがすべてあてはまる国を、略地図中のあ～えの中から一つ選び、その記号を書きなさい。また、その国名を書きなさい。
- a 鉄鉱石などの鉱産資源が豊富である。
 - b 大都市にはスラムがある。
 - c キリスト教を信仰している人が多い。
 - d 流域面積が世界最大の河川が流れる。

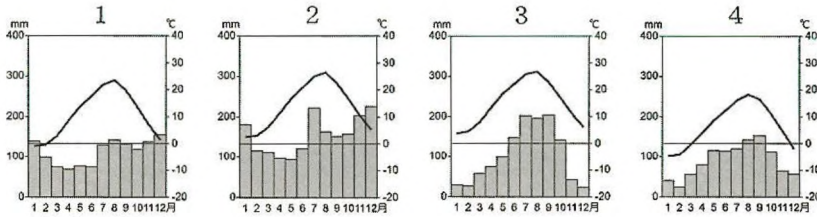
資料2



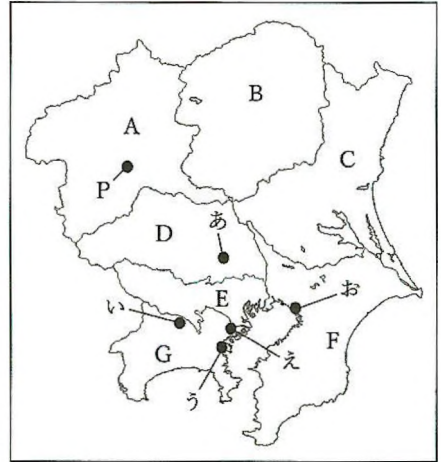
2 下の略地図を見て、次の(1)～(5)に答えなさい。(14点)

(1) 略地図中のあ～おは、政令指定都市である。
そのうち一つを選び、その都市名を書きなさい。

(2) 略地図中の都市Pの雨温図として適切なものを、
次の1～4の中から一つ選び、その番号を書きなさい。



略地図



(3) 資料1は、空港別乗降客数順位(2023年)の国内・国際とも
に上位5つを表したものである。これを見て、略地図が示
す地方にある空港Xと空港Yの名称をそれぞれ書きなさい。

(4) 略地図が示す地方の工業について述べたものとして**適切で
ないもの**を、次の1～4の中から一つ選び、その番号を書き
なさい。

- 1 鹿島臨海工業地域は、略地図中のC沿岸部に形成されて
ている。
- 2 北関東工業地域で生産された製品は、高速道路などを
利用し大都市圏へ輸送される。
- 3 京浜工業地帯は1990年以降、工業製品出荷額が全国一
である。
- 4 京葉工業地域は化学工業がさかんで、臨海部には石油
化学コンビナートが立ち並ぶ。

資料1

旅客(国内)			
順位	空港	旅客数(人)	
		年間	日平均
1	X	61,352,702	168,090
2	新千歳	19,690,046	53,946
3	福岡	17,675,048	48,425
4	那覇	17,389,715	47,644
5	大阪国際	14,753,825	40,422

旅客(国際)			
順位	空港	旅客数(人)	
		年間	日平均
1	Y	23,521,543	64,443
2	X	17,045,894	46,702
3	関西国際	16,370,031	44,850
4	福岡	6,400,877	17,537
5	中部国際	2,571,727	7,046

(「国土交通省 空港管理状況調査」による)

(5) 資料2は、略地図中のA～Gの各都県における昼夜間人口比率*である。
これについて述べた下の文中の に入る適切な内容を、次の2語を
用いて書きなさい。

* (昼間人口÷夜間人口×100)

周辺 都心

Eの数値が大きいのにに対し、D・F・Gの数値が小さくなっていることから、
 している人が多いと考えられる。

資料2 (%)

A	100.0
B	99.0
C	97.6
D	87.6
E	119.2
F	88.3
G	89.9

(「令和2年国勢調査」による)

3

下の文章は、縄文時代から平安時代までの歴史についてまとめたものである。次の(1)～(6)に答えなさい。(15点)

日本の歴史を振り返ると、今から1万6000年前に縄文時代が始まり、続いて(㉞)時代、古墳時代となります。その後、(㉟)天皇の時代には、㊦摂政となった厩戸皇子(聖徳太子)がそれまでには無い革新的な政策を展開しました。

㊧645年には大化の改新が行われ、天皇を中心とする律令国家体制を目指して政治を進めるようになりました。701年には大宝律令が制定されました。

710年には、平城京に都が移され、奈良時代が始まりました。奈良時代には、㊨仏教の力で国を治めようという考えがありました。また、794年には、㊩政治と仏教を切り離すために平安京に都を移し、平安時代が始まりました。㊪11世紀には藤原氏による摂関政治が全盛期を迎え、貴族が権力の中心となっていた時期もありました。

(1) 文章中の空欄(㉞)・(㉟)にあてはまる語をそれぞれ漢字で書きなさい。

(2) 下線部㊦のときの、略地図中のXにあてはまる、その当時の国名(王朝名)を書きなさい。

(3) 下線部㊧について、この間に起きた出来事として適切なものを、次の1～4の中から一つ選び、その番号を書きなさい。

- 1 白村江の戦いでは、日本は新羅を助けるために兵をあげ、唐と百済の連合軍と戦った。
- 2 壬申の乱がおき、その後天武天皇が即位した。
- 3 巨大な前方後円墳が造られたのはこの頃であり、武人の権力が目立っていた。
- 4 三世一身の法が制定され、土地制度に変化がみられるようになった。

略地図



(4) 下線部㊨の考えについて適切でないものを、次の1～4の中から一つ選び、その番号を書きなさい。

- 1 この考えを鎮護国家といい、流行り病などの終息を願った。
- 2 仏僧である道鏡が摂政となって政治を展開し、政治と宗教の一体化を進めた。
- 3 全国には国分寺・国分尼寺の建立が進められ、都では大仏の造立が行われた。
- 4 唐から鑑真が来日し、仏教の正しい戒律(信仰や僧の規則)を伝えた。

(5) 下線部㊩について、平安仏教を進めた仏僧を一人あげ、次の文章中の空欄(A)に書きなさい。また、その人物について、空欄(B)～(D)にあてはまる語を書きなさい。

平安時代は、山にこもって修行する山岳仏教が発展した。中国で仏教を学んだ(A)は、(B)山の(C)寺で(D)宗を開いた。

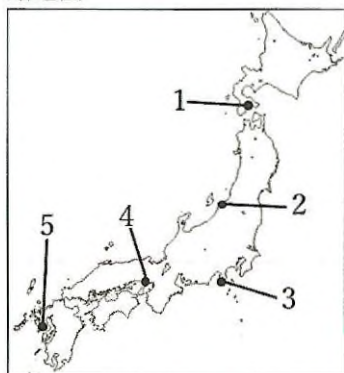
(6) 下線部㊪について、摂関政治以前のものとして適切なものを、次の1～4の中からすべて選び、番号を書きなさい。

- 1 平清盛が武士として初めて太政大臣になった。
- 2 白河上皇が院政を開始した。
- 3 坂上田村麻呂が征夷大将軍になり、蝦夷を打ち破った。
- 4 大伴家持がまとめたという「万葉集」には、天皇・貴族のほか、防人や農民の和歌も収められた。

4 下の年表は、ある生徒が日本とアメリカ両国にかかわる出来事についてまとめたものである。次の(1)～(6)に答えなさい。(15点)

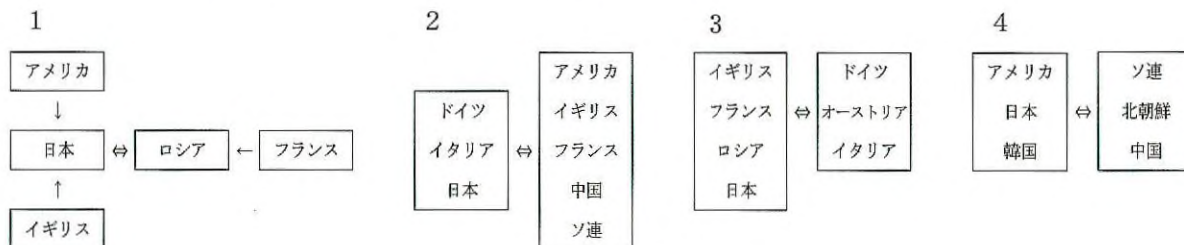
(1) 下線部㉔の翌年に結ばれた条約により日本が開いた港を、下の略地図中の1～5の中から2つ選び、番号を書きなさい。

略地図



年代	主な出来事
1853	㉔ <u>ペリーが浦賀に来航する</u>
1871	明治の三大改革が実施される中、岩倉使節団が帰国する
1914	㉕ <u>第一次世界大戦が始まる</u>
1929	㉖ <u>ニューヨーク株式市場で株価が大暴落する</u> ↓㉗
1945	㉘ <u>国際連合が結成される</u> 日本で㉙ <u>選挙法が改正される</u>

(2) 下線部㉖について、当時の主な国の関係図として適切なものを、次の1～4の中から一つ選び、その番号を書きなさい。なお、→は協力関係を、⇔は対立関係を表している。



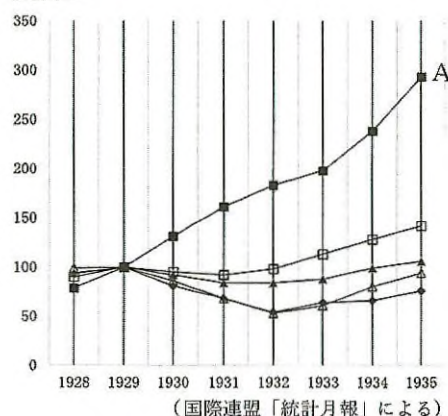
(3) 下線部㉖について、次のア、イに答えなさい。

ア アメリカではこの不況を乗り切るため、公共事業を積極的に行い、失業者を労働者として雇用した。この政策を何というか、書きなさい。

イ 右の資料1は、主な国の工業生産率の推移を、1929年を100として表したグラフである。Aの国名として適切なものを、次の1～4の中から一つ選び、その番号を書きなさい。

- 1 アメリカ 2 ソ連 3 ドイツ 4 日本

資料1



(4) 年表中の㉘の期間に起きた次の1～4の出来事を、古いものから順に並べ替え、番号で書きなさい。

- 1 清の最後の皇帝である溥儀を元首とする満州国の建国を宣言した。
- 2 北京郊外で日中両軍が武力衝突した。
- 3 ハワイの真珠湾が日本軍によって襲撃された。
- 4 陸軍の青年将校らが大臣などを殺傷し、東京中心部を占拠した。

(5) 下線部㉔の説明として適切なものを、次の1～4の中から一つ選び、その番号を書きなさい。

- 1 サンフランシスコ平和条約で設立が決まり、アメリカのニューヨークに本部が置かれている。
- 2 安全保障理事会の常任理事国には、拒否権が与えられている。
- 3 結成当初の常任理事国はアメリカ・イギリス・フランス・ソ連・日本である。
- 4 侵略を行った国に対して軍事的な制裁ができない。

資料2

年	割合 (%)
1890	1.1
1902	2.2
1920	5.5
1928	20.0
1946	48.7

(6) 下線部㉕について、右の資料2は、日本の総人口に占める有権者割合の変化を表したものである。1928年に比べて1946年の有権者割合が大きく変化している理由を、選挙法の改正の内容と関連づけて書きなさい。

(「総務省」2015年11月号による)

5 下の文章は、現代社会の見方や考え方についてまとめたものである。次の(1)～(3)に答えなさい。(15点)

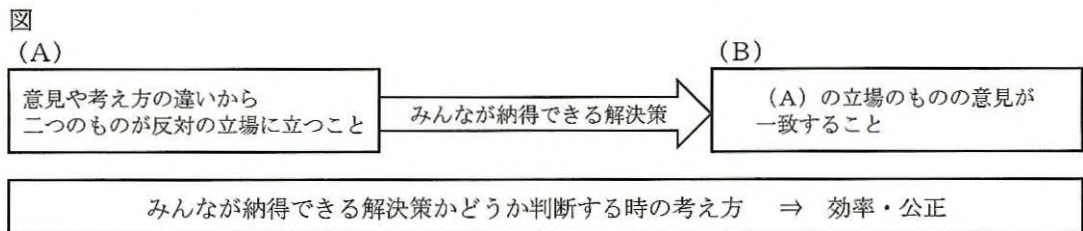
私たち人間はさまざまな社会集団に所属し、その一員として協力し合わなければ、生きることや成長すること、生活を豊かにすることもできない。このことから「人間は(㉖)である」といわれる。時には、㉗人間の求めることや考え方の違いから、さまざまな問題が起こる。また、それを解決するため、話し合いにより互いが受け入れられる解決策を作ろうとする。

(1) 下線部㉘について、社会集団としてあげられるものを、次の1～5の中からすべて選び、番号を書きなさい。

- 1 町内会 2 生徒会 3 部活動 4 国 5 会社(企業)

(2) (㉖)にあてはまる語を書きなさい。

(3) 下の図は、下線部㉙を図で表したものである。次のア～ウに答えなさい。



ア 図中の(A)・(B)にあてはまる語をそれぞれ書きなさい。

イ 次のa～dの文のうち、「効率」の考え方について説明したものには1を、「公正」の考え方について説明したものには2を書きなさい。

- a 関係者の全員が対等に話し合いに参加できているかどうかを重視する考え方。
- b 関係者の全員が決定方法に納得できているかどうかを重視する考え方。
- c 他人の権利や利益を不当に侵害していないかどうかを重視する考え方。
- d 無駄を省き、より少ない資源(お金、物、労力など)でより大きな成果を得るかどうかを重視する考え方。

ウ 図中の(A)が起こることを防ぐための方法を、簡単に書きなさい。

6 下の文章は、将来の進路についての会話の様子である。次の(1)～(4)に答えなさい。(14点)

先生：みなさんはどのような夢をもち、どのような仕事に就きたいと考えていますか。
 生徒A：私は⑥金融機関で働きたいです。④市場経済の問題の解決や③消費者の安全を守ることで
 人になりたいです。
 生徒B：現在の社会には、②環境問題、人口問題、食料問題、民族紛争など、解決すべき様々な問題が
 あります。世界中で起こっているこれらの問題を解決することが私の夢です。そのためにNGO
 の一員として活躍したいと考えています。

(1) 下線部⑥について、日本銀行の役割を述べた文として適切でないものを、次の1～4の中から一つ選び、その番号を書きなさい。

- 1 一般の銀行との間で国債を売買するなどの金融政策を行っている。
- 2 国の資金の出し入れを管理している。
- 3 個人や企業から預金を集め、企業などに対して貸付を行っている。
- 4 千円札、一万円札などの紙幣を発行している。

(2) 下線部④について、右の資料を見て、次のア、イに答えなさい。

ア ものやサービスの市場価格は、需要量と供給量によって変化する。
 資料中の 、 の組み合わせとして適切なものを、
 次の1～4の中から一つ選び、その番号を書きなさい。

- 1 A - 400, B - 売れ残る 2 A - 600, B - 売れ残る
- 3 A - 400, B - 不足する 4 A - 600, B - 不足する

イ 下の文が説明している機関の名称を書きなさい。

独占禁止法にもとづいて独占やカルテルを監視するために設置された機関
 で、不当な価格操作を行った業者を摘発して改めさせる。

資料

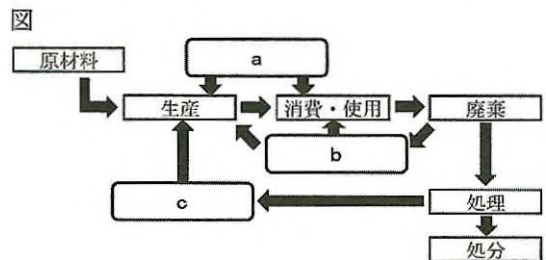
下の表は、ある商品の価格と
 需要量・供給量の関係を表した
 ものである。これによると、
 商品の価格が 円の場合、
 商品は120個売れ残り、価格が
 300円の場合には、商品は
 240個 ことになる。

価格(円)	需要量(個)	供給量(個)
300	600	360
400	540	420
500	480	480
600	420	540
700	360	600

(3) 下線部③について、製造物責任法で損害賠償を請求できる例を述べた文として適切でないものを、次の1～4の中から一つ選び、その番号を書きなさい。

- 1 赤信号で停止中の自動車エアバッグが突然破裂し、指を骨折した。
- 2 製造過程で異物が混入した食品を食べたことにより、体調を崩した。
- 3 説明書の通りに使用した家電製品から出火し、火災となった。
- 4 訪問販売で商品を購入し、未使用のまま返品しようとしたが契約上のトラブルが発生した。

(4) 下線部②について、循環型社会を実現するため、「3R」などが明記された循環型社会形成推進基本法が2000年に制定された。循環型社会の仕組みを表した右の図中のa～cにあてはまる語を、それぞれカタカナで書きなさい。



7 下の年表は、ある生徒が国際博覧会（万博）についてまとめたものである。次の（1）～（4）に答えなさい。（13点）

（1）下線部㉔について、次のア、イに答えなさい。

開催年	名 称	特記事項
1851 年	ロンドン万国博覧会	史上初の国際博覧会
1867 年	㉔ <u>パリ万国博覧会</u>	日本が初参加
1873 年	ウィーン万国博覧会	㉓ <u>日本の公式初参加</u>
1970 年	日本万国博覧会	アジア初・日本初開催
1975 年	㉕ <u>沖縄国際海洋博覧会</u>	アジア初・日本初の認定博* ¹ 開催
2005 年	日本国際博覧会	21 世紀初の登録博* ²

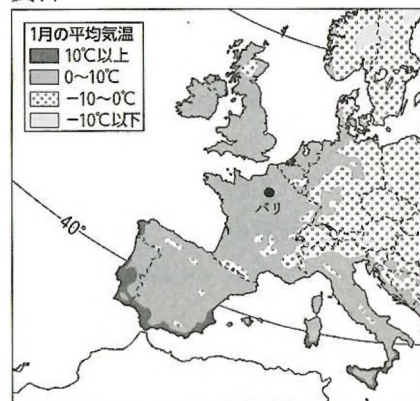
ア パリでは、2024年に夏季オリンピックが開催された。次回の夏季オリンピックの開催地として適切なものを、次の1～4の中から一つ選び、その番号を書きなさい。

* 1…2つの登録博の中間期間に1つの認定博を開催できる。規模に制限がある。
* 2…規模の大きな国際博覧会。1995 年以降は5 年ごとに開催。

- 1 サンフランシスコ 2 ボストン 3 ニューヨーク 4 ロサンゼルス

イ 右の資料のように、パリは青森よりも高緯度のわりに温暖な気候が見られる。このような気候の要因となっている海流と風の名称を、それぞれ書きなさい。

資料



（東京書籍「新しい社会 地理」による）

（2）下線部㉔の日本の参加をきっかけに、ウィーンでもジャポニズムが流行したとされる。ジャポニズムに影響を与えた作品として**適切でないもの**を、次の1～4の中から一つ選び、その番号を書きなさい。

- | | | | |
|-------------------|-------------------|------------|--------------------------|
| 1 | 2 | 3 | 4 |
| 歌川広重
大はしあたけのタ立 | 喜多川歌麿
ポッピンを吹く女 | 横山大観
無我 | 東洲斎写楽
三代目久鬼次の
江戸兵衛 |

（3）下線部㉕は、沖縄県の日本本土復帰記念事業として行われた。沖縄県と同様に、第二次世界大戦後にアメリカから返還された地域として適切なものを、次の1～5の中からすべて選び、番号を書きなさい。

- 1 奄美群島 2 小笠原諸島 3 尖閣諸島 4 竹島 5 北方領土

（4）2025年には、大阪で国際博覧会が開催されることになっており、「Society5.0の実現」が目標に掲げられている。Society5.0とは、狩猟社会、農耕社会、工業社会、情報社会に続く、新たな社会のことであり、IoTやAIの活用が実現された社会である。AIを説明した下の文中の A にあてはまる語を漢字で、B にあてはまる語をカタカナでそれぞれ書きなさい。

AIとは多くの情報から推論したり判断したりする人間の A の働きをコンピューターに持たせたもので、人工 A と呼ばれる。AIで生活が便利になる一方で、私たち人間には情報を正しく活用する力である情報 B を身に付けることが求められる。